

令和8年度
奈良県立大学附属高等学校
入学者一般選抜検査問題

社 会

注意事項

- 1 指示があるまで、この冊子を開いてはいけません。
- 2 答えは全て解答用紙の解答記入欄にマークしてください。例えば、

10

と表示のある問いに③と解答する場合は、次の(例)のように解答番号10の解答記入欄の③にマークしてください。

(例)

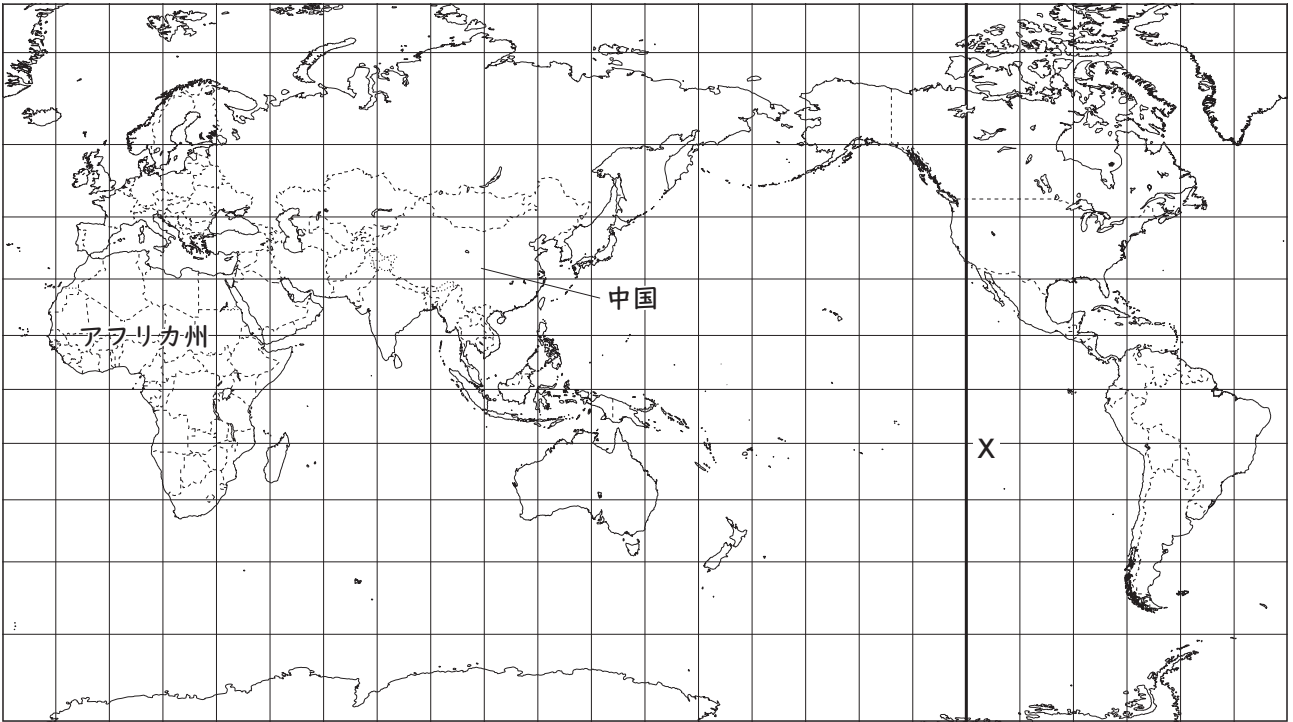
解答 番号	解 答 記 入 欄
10	① ② ● ④ ⑤ ⑥ ⑦ ⑧ ⑨ ⑩

- 3 印刷ミスなどがあれば、静かに手を挙げて監督の先生に知らせてください。
問題内容についての質問には答えられません。
- 4 不正行為は絶対にしないようにしてください。

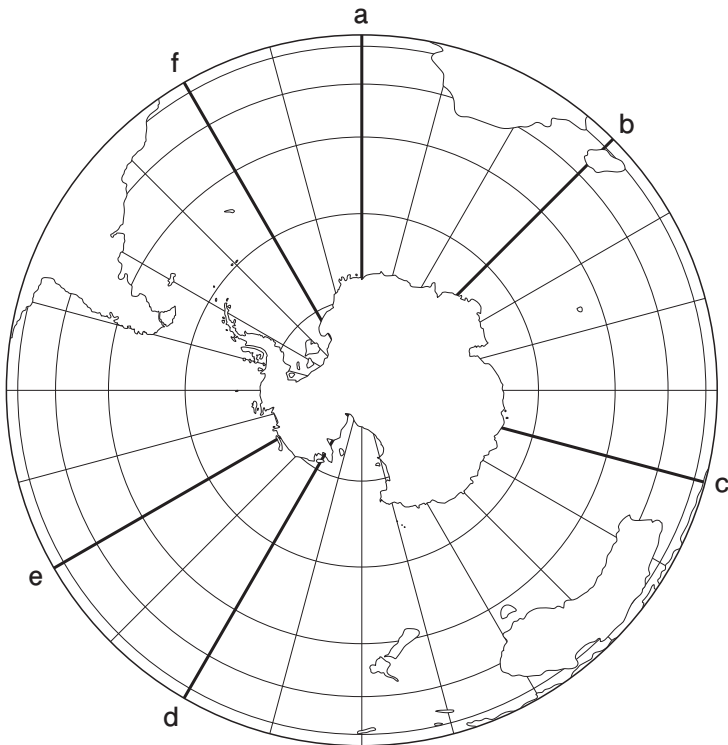
問題は次のページから始まります。

1 春男さんは、世界の地理について調べている。次の世界地図を見て、後の各問いに答えなさい。

世界地図



地図1 南極を中心にした南半球

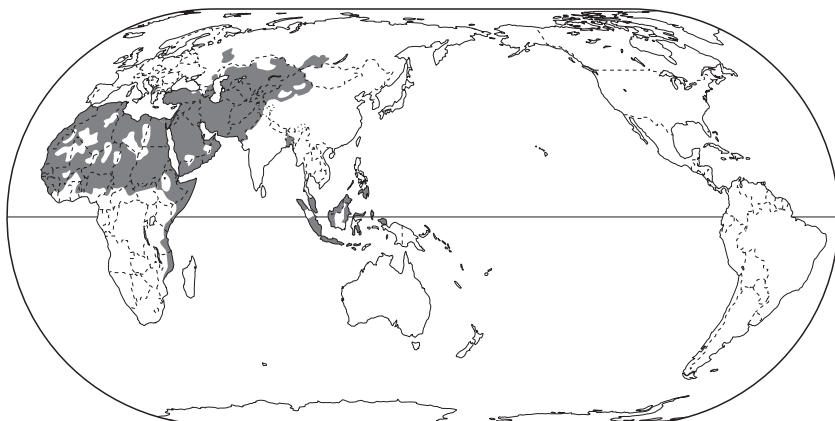


(1) 春男さんは、地球上の位置は緯度と経度を使って表すことができることを学び、同じ経度を結んだ経線が地図上に引かれていることを知った。世界地図のXの経線は、地図1のa～fのどの経線と一致するか。次の①～⑥から一つ選び、その数字を解答番号 にマークしなさい。

- ① a ② b ③ c ④ d ⑤ e ⑥ f

- (2) 春男さんは、さまざまな地図を調べる中で、世界三大宗教であるキリスト教、イスラム教、仏教の分布を示した地図を見つけた。次の地図2は、そのうちのいずれかの分布を示したものである。また、後のA～Cは、キリスト教、イスラム教、仏教のいずれかで見られる様子を示したもので、I～IIIは、それぞれの宗教の特徴について説明したものである。地図2の分布図にあてはまる宗教で見られる様子とその宗教の特徴についての説明を正しく組み合わせたものはどれか。後の①～⑨から一つ選び、その数字を解答番号 にマークしなさい。

地図2



(「デイルケ世界地図」2018年版などより作成)



- I 酒を飲むことや豚肉を食べることが禁止されていて、1日5回メッカに向かって礼拝をする。
- II 紀元前6世紀ごろにインドでおこり、一生に一度は僧侶として修行する国もある。
- III 教典である聖書の教えを大切にし、日曜日に教会の礼拝に行く。

- ① A・I ② A・II ③ A・III
- ④ B・I ⑤ B・II ⑥ B・III
- ⑦ C・I ⑧ C・II ⑨ C・III

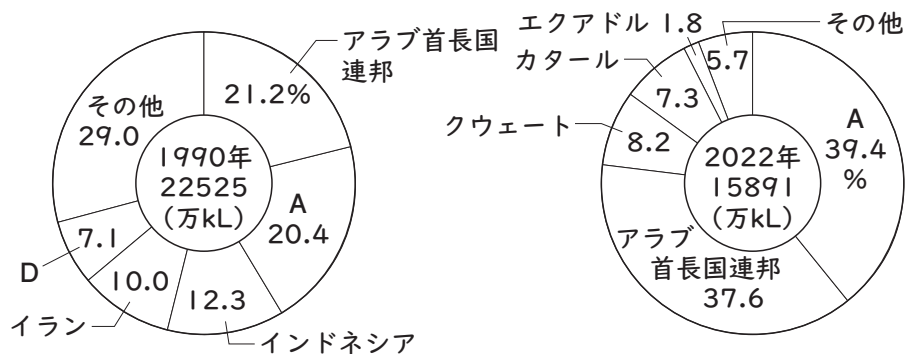
(3) 春男さんは、原油の輸出や輸入について調べた。次の資料1は、1990年と2022年の原油の輸出量と輸入量の多い上位5か国を示したものである。資料2は、日本の1990年と2022年の原油の輸入量と輸入先の国別の割合を示したものである。資料1、2のA～Dには、サウジアラビア、ロシア（旧ソ連）、アメリカ合衆国、中国のいずれかの国があてはまる。アメリカ合衆国と中国にあてはまるものをそれぞれ後の①～④から一つずつ選び、その数字をアメリカ合衆国については解答番号 3 に、中国については解答番号 4 にマークしなさい。

資料1 1990年と2022年の原油の輸出量と輸入量の多い上位5か国

	年	1位	2位	3位	4位	5位
原油の輸出量	1990年	A	イラン	B	イラク	メキシコ
	2022年	A	B	C	イラク	カナダ
原油の輸入量	1990年	C	日本	ドイツ*	イタリア	フランス
	2022年	D	C	インド	韓国	日本

*1990年のドイツは、東西ドイツの合計である。(2025/26年版「世界国勢図会」ほかより作成)

資料2 日本の1990年と2022年の原油の輸入量と輸入先の国別の割合



(2024/25年版「日本国勢図会」ほかより作成)

- ① A ② B ③ C ④ D

- (4) 世界地図中のアフリカ州について、春男さんはモノカルチャー経済の国が多いことを知り、貿易に注目した。次の文は、春男さんがまとめたメモである。メモ中のXにあてはまる内容を後のa、bから、Yにあてはまる内容を後のI、IIから、また春男さんがメモにまとめた内容は、国際連合が定めたSDGsの17の目標のうち、どの目標にあてはまるかを後のア、イから選んで正しく組み合わせているものを、下の①～⑧から一つ選び、その数字を解答番号 5 にマークしなさい。

春男さんがまとめたメモ

グローバル化の進展により、各国で（ X ）国際分業が行われるようになってきた。貿易は、輸入する国にも輸出する国にも利益をもたらすものだが、発展途上国と先進国の間では、先進国によって一方的に決められた価格で貿易が行われることもある。そのような公正でない貿易をやめ、公正な貿易（フェアトレード）を行うことで、輸入する側も輸出する側ともに持続可能な発展をすることができると考えた。フェアトレードについての認識が普及し、わたしたち先進国の消費者が（ Y ）ことで、発展途上国の生産者に正当な対価が支払われるようになれば、生産者の生活が改善され、自立した生活を送れるようになるのではないだろうか。

- X a 海外から輸入した製品を自国で消費せずに、他国に輸出する
 b 競争力の強い産業に力をいれ、競争力の弱い産業の製品を輸入する
- Y I 生産者の労働に見合った適正な価格で継続的に購入する
 II 消費者の購入しやすい価格のものを選択して購入する

目標 ア

イ



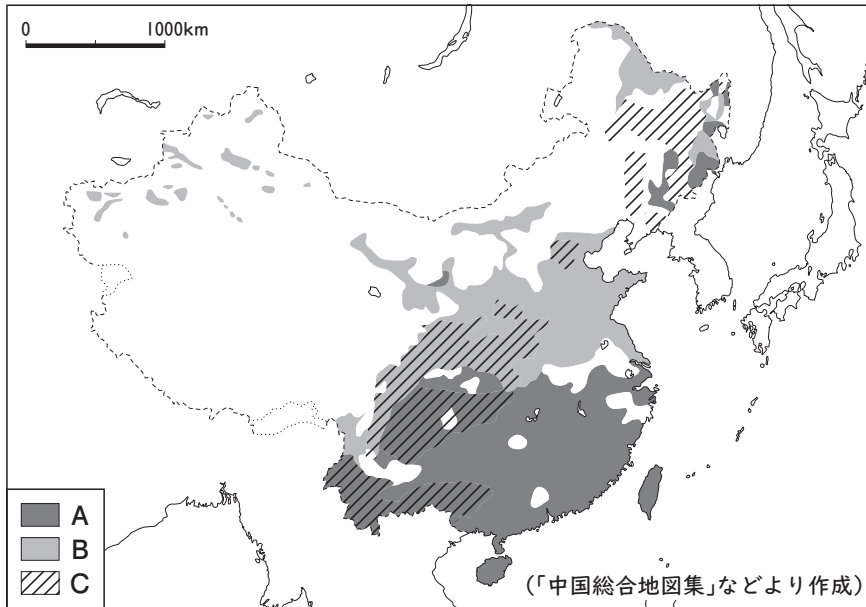
<https://www.un.org/sustainabledevelopment>

The content of this publication has not been approved by the United Nations and does not reflect the views of the United Nations or its officials or Member States

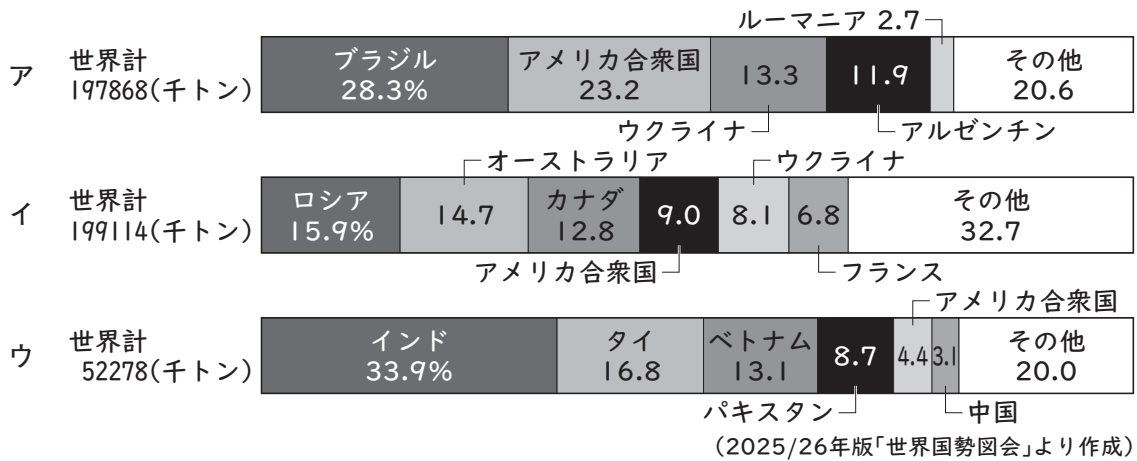
- ① a・I・ア ② a・I・イ
 ③ a・II・ア ④ a・II・イ
 ⑤ b・I・ア ⑥ b・I・イ
 ⑦ b・II・ア ⑧ b・II・イ

(5) 世界地図中の中国について、春男さんは、資料3の農業分布図を見つけた。資料3のA～Cには、小麦、米、とうもろこしのいずれかがあてはまる。また、資料4のア～ウのグラフは、2023年における、A～Cのいずれかの農作物の世界全体の輸出量とそれに占める国別の割合を示したものである。小麦にあてはまる農業分布と小麦の輸出についてのグラフの組み合わせとして適切なものを、後の①～⑨から一つ選び、その数字を解答番号 6 にマークしなさい。

資料3



資料4



- ① 農業分布－A グラフ－ア
- ② 農業分布－A グラフ－イ
- ③ 農業分布－A グラフ－ウ
- ④ 農業分布－B グラフ－ア
- ⑤ 農業分布－B グラフ－イ
- ⑥ 農業分布－B グラフ－ウ
- ⑦ 農業分布－C グラフ－ア
- ⑧ 農業分布－C グラフ－イ
- ⑨ 農業分布－C グラフ－ウ

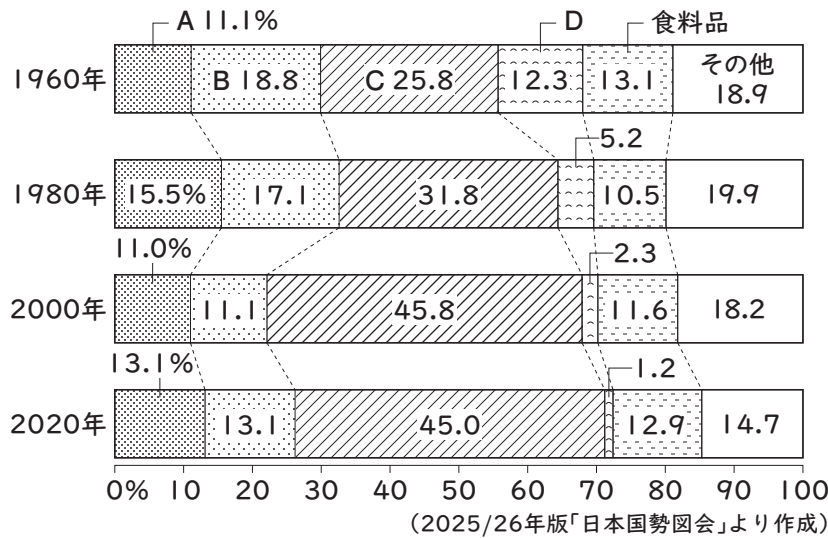
- 2 夏美さんのクラスでは、3つの班に分かれて、日本の地理について調べ学習を行うことになった。次の表を見て、後の各問いに答えなさい。

表

1班	日本の工業について ・日本の工業出荷額はどのくらい増えたのか。 ・日本で生産される ^① 工業製品はどのように変化してきたのか。
2班	日本の人口分布と、世界と比較した日本の人口構成について ・日本の人口分布はどのようになっているか。 ・日本の人口構成と、 ^② 世界の人口構成にはどのような違いがあるか。
3班	日本の観光業について ・観光業がさかんな都道府県はどこか。 ・日本の有名な観光地では、どのようなことが問題になっているか。 ^③

- (1) 1班では、下線部^①について調べ、資料1の工業出荷額の推移のグラフを見つけた。グラフ中のA～Dは、繊維、金属、化学、機械のいずれかである。A～Dの組み合わせとして正しいものを、後の①～⑤から一つ選び、その数字を解答番号 にマークしなさい。

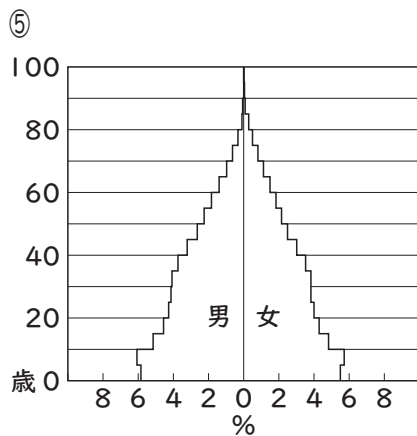
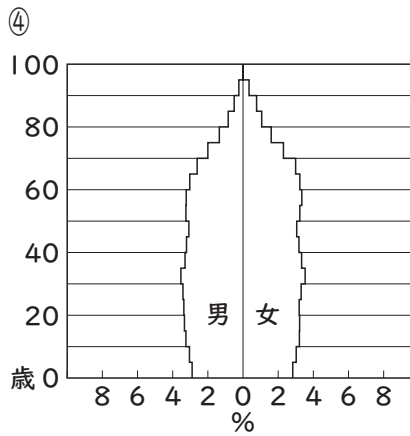
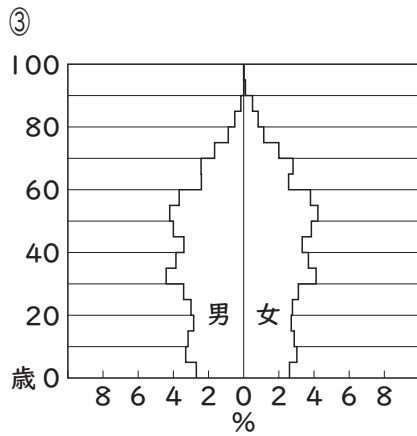
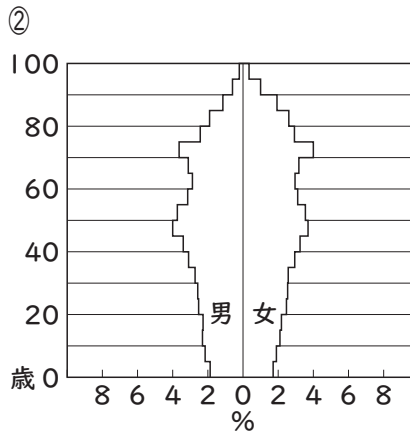
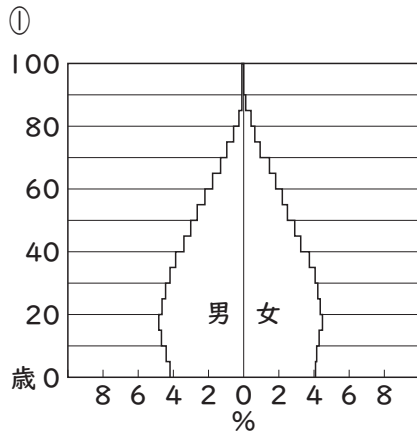
資料1



- ① A－金属 B－機械 C－繊維 D－化学
 ② A－金属 B－化学 C－機械 D－繊維
 ③ A－機械 B－金属 C－繊維 D－化学
 ④ A－機械 B－金属 C－化学 D－繊維
 ⑤ A－化学 B－金属 C－機械 D－繊維

(2) 2班では、下線部⑥について調べ、次の資料2のグラフを見つけた。資料2の①～⑤は、2021年の日本、中国、インド、エジプト、アメリカ合衆国のいずれかの国の人口ピラミッドである。2021年の中国の人口ピラミッドを①～⑤から一つ選び、その数字を解答番号 8 にマークしなさい。


資料2



(2023/24年版「世界国勢図会」より作成)

- (3) 3班では、下線部㊸について調べる中で、京都市民が生活する上で経験した観光課題をまとめた資料3を見つけた。さらに、この資料3の観光課題を解決するために京都市がさまざまな施策を行っていることを知り、課題に対する施策の内容と、そのねらいについてカードを作成して整理したが、作成したカードの1枚に誤りがあることに気がついた。誤っているカードはどれか。後の①～④から一つ選び、その数字を解答番号 にマークしなさい。

資料3 京都市民が生活する上で実際に経験した観光課題についてのアンケート結果
特に印象に残っている観光課題（2025年度）



(京都市産業観光局観光MICE推進室資料より作成)

①

○施策 観光特急バスの利用促進

有名観光地の近くにある停留所だけに停車する観光バスを設定し、観光客に積極的な利用を促す。

○ねらい

各地に分散しがちな観光客を有名観光地に集中させる。

②

○施策 手ぶら観光の推進

駅のコインロッカーや手荷物を預ける場所の情報を提供するほか、駅から宿泊施設まで荷物を運ぶサービスを紹介する。

○ねらい

大型の手荷物を持ってバスに乗る観光客を減らし、バスの車内混雑を緩和する。

③

○施策 清水坂駐車場の自家用車の受入制限

観光シーズンに限り、清水坂の自家用車駐車場で自家用車の受け入れを停止し、予約したバスだけを受け入れる駐車場とする。

○ねらい

駐車場に入る順番を待つ観光バスが道路にとどまらないようにすることで、渋滞の発生を防ぎ、道路の混雑を緩和する。

④

○施策 京都 朝・夜観光の推進

早朝や夜に訪れることができる観光地の情報や、おすすめのイベントの情報などを提供する。

○ねらい

昼の時間帯に集中しがちな観光客の観光地訪問時間を早朝や夜の時間に分散する。

3 秋奈さんは、古代から近代までの奈良県と仏教の関わりについて調べ、次の年表を作成した。これに関して、後の各問いに答えなさい。

年表

年代	できごと
6世紀	欽明天皇の時に、 <u>朝鮮半島との交流が深まる。</u>
604	<u>聖徳太子</u> （厩戸王、厩戸皇子）が十七条の憲法を定める。
710	藤原不比等が平城京に藤原氏の寺を移し、興福寺とする。
752	東大寺の大仏の開眼供養が行われる。
803ごろ	<u>空海</u> が東大寺で出家する。
1180	<u>源平の争い</u> によって、東大寺や興福寺などが炎上する。
1567	東大寺が、 <u>戦国大名</u> の松永久秀と三好三人衆の戦いの場となり、大仏殿が焼失する。
1694	<u>徳川綱吉</u> が主導して、東大寺大仏殿の修理が始まる。
1709	東大寺大仏殿が再建される。
1868	<u>明治政府</u> が神仏分離令を出し、天理にあった大寺院などが取り壊される。
1880	興福寺旧境内を奈良公園とする。
1894	帝国奈良博物館旧本館が完成する（2010年に仏教彫刻専門の展示館となる）。

(1) 次の資料1は、秋奈さんが年表中の下線部①について調べたときに見つけたものである。資料1の□には、朝鮮半島にあった国が入る。□にあてはまる国を次のページのア～ウから、資料1に書かれている内容として正しいものをⅠ～Ⅲから選んで正しく組み合わせているものを、後の①～④から一つ選び、その数字を解答番号10にマークしなさい。

資料1

冬十月に、□の聖明王は、西部姫氏達率怒唎斯致契らを派遣して、釈迦仏金銅像一軀・幡蓋若干、経論若干巻を献上した。別に上表して、仏法の流布と礼拝の功德を称えて「この法は、諸法のうちで、最もすぐれたものです。－（略）－ それに、遠く天竺から、ここ三韓に伝わる間、みな教えに従い信仰して、尊敬しない国などありません。そこで、□王である私明が、謹んで陪臣怒唎斯致契を派遣して、帝国日本にお伝えして、畿内に流布していただけるよう、申しあげる次第です。」

－（略）－

この日に、天皇は聞き終えると、躍り上がって喜ばれ、使者に詔して、「私は今までに、これほどすばらしい法は聞いたことがない。しかしながら、私ひとりで決めるわけにはいかない」と仰せられた。そうして群臣それぞれに尋ねて、「西蕃が献上した仏像の容貌は莊嚴で美しく、今までまったく見たことがないものだ。礼拝すべきかどうか」と仰せられた。蘇我大臣稲目宿禰は奏上して、「西蕃諸国はみなこぞって礼拝しております。豊秋日本だけが背くわけにはゆきません」と申しあげた。物部大連尾輿・中臣連鎌子は同じく奏上して、「我が国家の王は、常に天地の百八十神を春夏秋冬にお祭りしてこられました。今、それを改めて蕃神を礼拝なされば、おそらくは国神の怒りをうけるでしょう」と申しあげた。天皇は、「願っている稲目宿禰にこの仏像を授け、試みに礼拝させてみよう」と仰せられた。（新編日本古典文学全集「日本書紀」より）

* 1 西部姫氏達率怒唎斯致契…聖明王の使者 * 2 一軀…仏像など一
 * 3 幡蓋…仏堂の上方を飾る幡（はた）と天蓋（織物のおおい） * 4 経論若干巻…仏教の経典や論書が複数巻
 * 5 上表…天皇に対して、文書を奉ること * 6 天竺…インド
 * 7 三韓…1世紀～4世紀頃にかけて朝鮮半島に存在した国。馬韓、辰韓、弁韓のこと * 8 陪臣怒唎斯致契…* 1と同一人物
 * 9 群臣…多くの臣下 * 10 西蕃…西の方に住んでいる野蛮な民族 * 11 豊秋日本…古代の日本のことを美しく言った名称
 * 12 蕃神…外国から伝来した神や、外国人が信仰する神

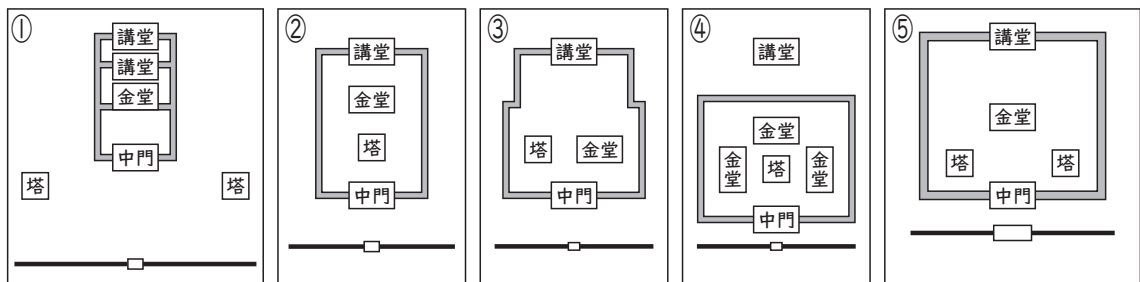
国 ア 高句麗 イ 新羅 ウ 百済

内容

- I 仏教の受け入れについて、天皇は反対したが、蘇我稲目の説得により仏教を受け入れることとし、同じく反対していた物部尾輿と中臣鎌子にも受け入れるように命令した。
- II 仏教の受け入れについて、天皇は受け入れようとしたが、百八十神を信仰する蘇我稲目が反対し、物部尾輿と中臣鎌子が賛成したため、国が二つに分かれて争った。
- III 仏教の受け入れについて、天皇は臣下に意見を求め、物部尾輿と中臣鎌子が反対したため、賛成した蘇我稲目にまずは仏像を礼拝させることにした。

- ① ア・I ② ア・II ③ ア・III
④ イ・I ⑤ イ・II ⑥ イ・III
⑦ ウ・I ⑧ ウ・II ⑨ ウ・III

- (2) 年表中の下線部⑥について、秋奈さんは、聖徳太子が建てた法隆寺に興味をもち、寺院における主要な建物の配置（これを伽藍配置という。）に注目した。現在の法隆寺の伽藍配置を表したものを、次の①～⑤から一つ選び、その数字を解答番号 にマークしなさい。



- (3) 年表中の下線部⑨について、秋奈さんは、空海が真言宗を開いたことを知り、平安時代初めごろの仏教について調べた。メモは、そのときに秋奈さんが調べたことをまとめたものである。メモの にあてはまる内容として最も適切なものを、後の①～⑤から一つ選び、その数字を解答番号 にマークしなさい。

メモ

- ・平安時代の初めごろ、遣唐使とともに中国に渡った空海は、中国で密教を学び、帰国後、高野山に金剛峯寺を建て、真言宗を開いた。
- ・最澄は比叡山に延暦寺を建て、天台宗を開いた。後に密教は延暦寺にも伝わった。
- ・密教では、山奥での学問や、厳しい修行を重視した。
- ・密教は、、天皇や貴族に信仰されるようになった。

- ① 念仏を広めるのに踊りを取り入れ、念仏を唱えることで極楽往生できると説き
- ② この世の病気や災いを取りのぞく祈とうやまじないを取り入れ
- ③ 座禅を組み、自らが悟りを開くことで救われると説き
- ④ 阿弥陀如来にすぎること死後に極楽浄土へ生まれ変わることができると説き
- ⑤ 題目を唱えることで、国家も人も救われると説き

- (4) 次のⅠ～Ⅳは武士に関するできごとについて述べたものである。これらのうち、年表中の下線部④の源平の争い以前のできごとを三つ選び、年代の古いほうから順に並べたものとして適切なものを、後の①～⑧から一つ選び、その数字を解答番号 にマークしなさい。

- Ⅰ 東北地方で起こった前九年合戦、後三年合戦を源氏がしずめる
- Ⅱ 後鳥羽上皇が政権を朝廷に取り戻そうとして承久の乱を起こす
- Ⅲ 関東地方で平将門が、瀬戸内地方で藤原純友が反乱を起こす
- Ⅳ 保元の乱、平治の乱に勝利した平清盛が太政大臣になる

- ① Ⅰ→Ⅱ→Ⅲ ② Ⅰ→Ⅳ→Ⅱ ③ Ⅱ→Ⅲ→Ⅰ ④ Ⅱ→Ⅲ→Ⅳ
- ⑤ Ⅲ→Ⅰ→Ⅱ ⑥ Ⅲ→Ⅰ→Ⅳ ⑦ Ⅳ→Ⅱ→Ⅲ ⑧ Ⅳ→Ⅲ→Ⅰ

- (5) 年表中の下線部⑥について、次の文は、秋奈さんが戦国大名の登場についてまとめたメモの一部である。メモ中のX、Yにあてはまるものを、それぞれ後のア～ウ、a～cから選んで正しく組み合わせているものを、下の①～⑨から一つ選び、その数字を解答番号 にマークしなさい。

メモ

戦国大名は、(X) により室町幕府が弱体化し、全国にその支配がゆきわたらなくなったことから登場した。実力のあるものが、それまで国を支配していた守護大名の地位をうばうなどして戦国大名となり、(Y)、分国法を定めた。

- X ア 応仁の乱 イ 関ヶ原の戦い ウ 壬申の乱
- Y a 貴族や寺社の荘園を守り、朝廷の権利を尊重するため
- b 家来の下剋上を防ぎ領国を支配するため
- c 室町幕府の支配力を再び強めるため

- ① ア・a ② ア・b ③ ア・c
- ④ イ・a ⑤ イ・b ⑥ イ・c
- ⑦ ウ・a ⑧ ウ・b ⑨ ウ・c

- (6) 年表中の下線部①について、徳川綱吉のころには、元禄文化が開花した。元禄文化について述べた次のⅠ～Ⅲのうち、正しいものはどれか。正しいものをすべて選んでいるものを、後の①～⑦から一つ選び、その数字を解答番号 にマークしなさい。

- Ⅰ 元禄文化は京都や「天下の台所」とよばれる商業の中心地であった大阪で栄えた町人文化である。
- Ⅱ 井原西鶴は武士や町人の生活をもとに浮世草子を書き、近松門左衛門は歌舞伎や人形浄瑠璃の脚本を書いた。
- Ⅲ 浮世絵の祖といわれる喜多川歌麿が美人画を描き、鈴木晴信が錦絵を始めた。

- ① Ⅰ、Ⅱ、Ⅲ ② Ⅰ、Ⅱ ③ Ⅰ、Ⅲ ④ Ⅱ、Ⅲ
- ⑤ Ⅰ ⑥ Ⅱ ⑦ Ⅲ

- (7) 年表中の下線部⑧について、秋奈さんは、明治政府の政策を調べ、資料2の明治政府の収入に占める地租の割合の移り変わりを示したグラフを見つけた。資料2を読み取った内容として正しいものをX～Zから、また、明治政府により行われた地租改正の内容と目的として正しいものをa～cから一つずつ選んで適切に組み合わせているものを、後の①～⑨から一つ選び、その数字を解答番号 16 にマークしなさい。

資料2を読み取った内容

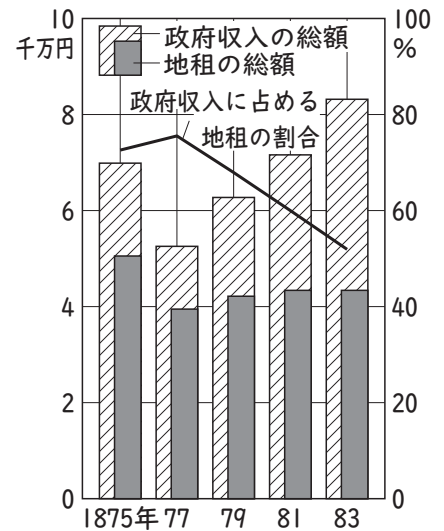
- X 政府収入の総額は1875年以降ずっと増加傾向にあり、地租の総額も少しずつ増加しているが、政府収入に占める地租の割合はあまり変化していない。
- Y 政府収入の総額は1877年以降増加しているが、地租の総額はほぼ一定であるため、政府収入に占める地租の割合は減少している。
- Z 地租の総額は1875年が最も多く、そこから減少傾向にあり、政府収入の総額は1877年が最も少ないため、政府収入に占める地租の割合は1877年が最も高い。

地租改正の内容と目的

- a 地主の土地を政府が安く買い上げ、小作人に売り渡すことで多くの自作農を生み出し、できるだけ多くの人に税を負担させることで、より多く税をとるため。
- b 土地の所有者に地券を発行し、その土地の地価の3%を現金で納めさせることで、収穫量によらず一定の税をとり、政府の収入を安定させるため。
- c 実際に耕作している百姓を検地帳に登録し、土地の所有権を認め、土地を耕す権利を保障することで、土地の面積によって税を負担させ、公平に税をとるため。

- ① X・a ② X・b ③ X・c
 ④ Y・a ⑤ Y・b ⑥ Y・c
 ⑦ Z・a ⑧ Z・b ⑨ Z・c

資料2 政府の収入に占める地租の割合の移り変わり



(「近代日本経済史要覧」より作成)

4 冬樹さんは、2025年が戦後80年であることを知り、1945年に設立された国際連合とその関係機関について調べた。表はその一部である。これを見て、後の各問いに答えなさい。

表

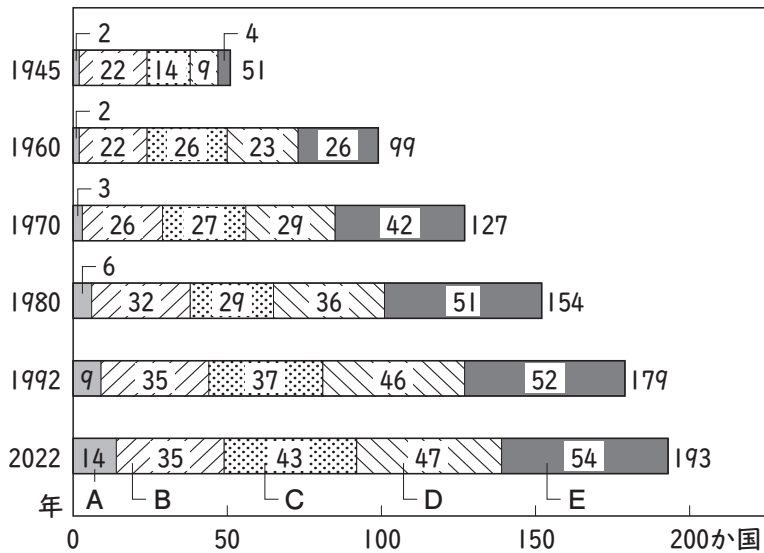
名称		役割や目的等
① <u>国際連盟</u>		1920年、アメリカ合衆国大統領ウィルソンの提案によりつくられた国際機関。世界の平和を目的として設立された。
② <u>国際連合</u>		1945年に設立。国際連盟の反省を生かしてつくられた国際平和機関。 ③ <u>日本は1956年に加盟</u> 。国際平和と安全を実現することを目的として設立された。
国際連合の 関係機関	安全保障理事会	世界の平和と安全の維持に主要な責任をもつ。常任理事国5か国と非常任理事国10か国が、他国を侵略した国に対して経済制裁や軍事制裁などを決定する。また、平和維持活動（PKO）を展開する。
	国連環境計画 (UNEP)	1972年に設立。「かけがえのない地球」をキャッチフレーズにストックホルムで開催された国連人間環境会議において、設立が決定。④ <u>環境問題</u> に関して、国際協力を推進していくことを目的としている。
	世界貿易機関 (WTO)	1995年に設立。貿易に関する国際的なルールを定め、モノやサービスの自由な取引を進める役割を担う。貿易自由化の進展により、各国には世界市場での競争力が求められるようになった。その一方で、地理的に近く共通の利益をもつ国々が協力して経済的なまとまりをつくる⑤ <u>地域主義</u> の動きも進展している。

(1) 下線部①が設立された時期の日本の社会の様子として正しいものを、次の①～⑤から一つ選び、その数字を解答番号 にマークしなさい。

- ① ラジオ放送が始まった。また、新聞などの活字文化が広まり、新聞では100万部を超えるものがでてきた。
- ② レンガづくりの欧米風の建築物が建てられ、新橋・横浜間に鉄道が開通した。
- ③ 三種の神器とよばれた白黒テレビ、洗濯機、冷蔵庫などの家電製品が普及し、家事にかかる時間が短縮された。
- ④ 義務教育の期間が4年から6年に延長され、国民教育の基礎が固まった。
- ⑤ テレビ放送が始まり、多くの家庭でテレビが楽しめるようになり、CMで流れた商品を購入する人が増えた。

- (2) 下線部⑥について、資料1は、国際連合の加盟国数の推移を示したものである。A～Eは、アジア州、ヨーロッパ州、アフリカ州、南北アメリカ州、オセアニア州のいずれかを表している。アジア州、ヨーロッパ州、アフリカ州にあてはまる組み合わせとして適切なものを、下の①～⑥から一つ選び、その数字を解答番号 **18** にマークしなさい。

資料1 国際連合の加盟国数の推移



(国連資料より作成)

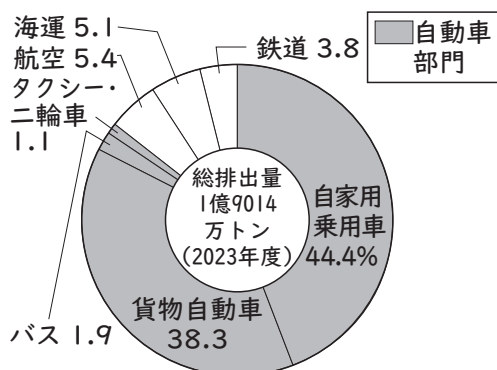
- ① アジア州－C ヨーロッパ州－E アフリカ州－A
- ② アジア州－C ヨーロッパ州－A アフリカ州－E
- ③ アジア州－D ヨーロッパ州－A アフリカ州－B
- ④ アジア州－D ヨーロッパ州－C アフリカ州－E
- ⑤ アジア州－E ヨーロッパ州－B アフリカ州－A
- ⑥ アジア州－E ヨーロッパ州－C アフリカ州－B

- (3) 下線部③について、1956年に日本の国際連合への加盟が成立したと最も関係のあるできごととして適切なものを、次の①～⑥から一つ選び、その数字を解答番号 **19** にマークしなさい。

- ① アジア・アフリカ会議が開かれ、日本の植民地支配から解放された国々に加盟を認められたため。
- ② 日ソ共同宣言が調印されてソ連との国交が回復し、常任理事国すべての賛成を得られたため。
- ③ 中国との間に日中平和友好条約が結ばれ、常任理事国すべての賛成を得られたため。
- ④ 朝鮮戦争が勃発し、停戦にむけた国際連合の活動に日本の力が必要だったため。
- ⑤ 日本とアメリカ合衆国の間で日米安全保障条約が結ばれ、日本にアメリカ合衆国の軍事基地を置くことを認めたため。
- ⑥ 第四次中東戦争が起こり、世界各国が石油危機を経験し、国際連合への協力が世界中で求められたため。

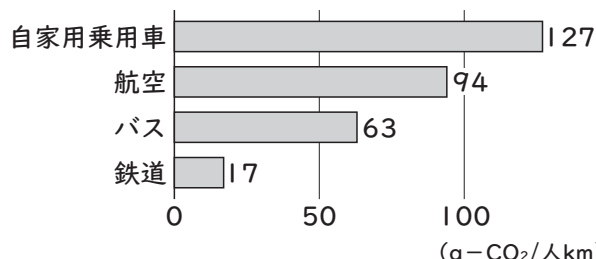
(4) 下線部④について、冬樹さんは、地球温暖化の原因となる温室効果ガスである二酸化炭素の排出量をおさえるためにできることを調べる中で資料2～4を見つけた。これら三つの資料から読み取れることを、後の①～⑤から一つ選び、その数字を解答番号 にマークしなさい。また、二酸化炭素の排出量をおさえる方法として最も正しいものを、次のページの⑥～⑩から一つ選び、その数字を解答番号 にマークしなさい。

資料2 運輸部門における二酸化炭素排出量の割合



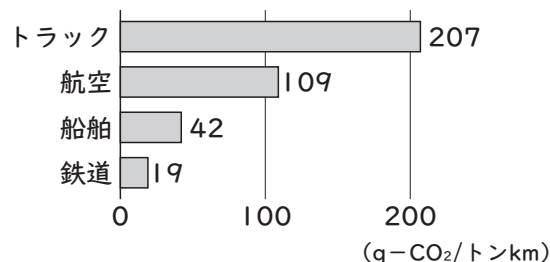
(温室効果ガスインベントリオフィス資料より作成)
貨物自動車…トラックなど。

資料3 1人を1km運ぶときに排出される二酸化炭素の量



(2023年度) (国土交通省資料などより作成)
各輸送機関が排出する二酸化炭素の量を、輸送量(人キロ: 輸送した人数に輸送距離(km)をかけた値)で割って算出した値。

資料4 1トンの貨物を1km運ぶときに排出される二酸化炭素の量



(2023年度) (国土交通省資料などより作成)
各輸送機関が排出する二酸化炭素の量を、輸送量(トンキロ: 輸送した貨物の重さ(トン)に輸送距離(km)をかけた値)で割って算出した値。

資料2～4から読み取れる内容

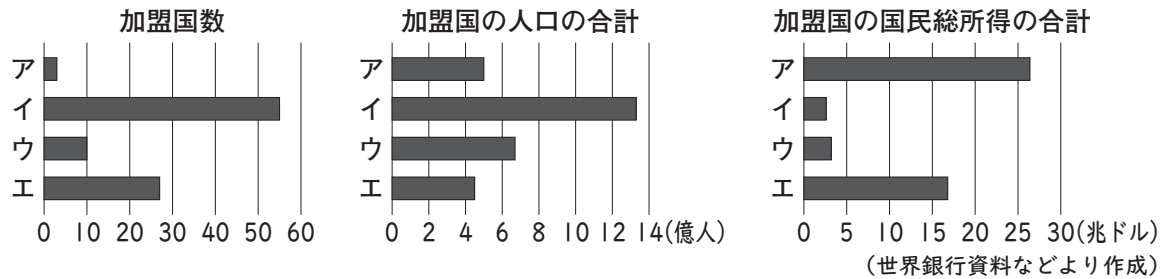
- ① 航空の運輸部門全体に占める二酸化炭素排出量の割合は5.4%と低いが、1人を1km運ぶときに排出される二酸化炭素の量は自家用乗用車、バス、鉄道よりも多い。
- ② バスの運輸部門全体に占める二酸化炭素排出量の割合は自家用乗用車、貨物自動車の次に高いが、1人を1km運ぶときに排出される二酸化炭素の量は鉄道よりも少なく、鉄道のおよそ3分の2である。
- ③ 運輸部門における二酸化炭素排出量のうち、自家用乗用車と貨物自動車の占める割合は、自動車部門全体の90%以上である。
- ④ 鉄道と航空の二酸化炭素の排出量を比べると、1人を1km運ぶときも、1トンの貨物を1km運ぶときも、鉄道が航空の約5倍の量の二酸化炭素を排出する。
- ⑤ 運輸部門全体での二酸化炭素排出量を見ると、自家用乗用車の割合が最も高く、その二酸化炭素排出量は1億トン以上である。

二酸化炭素の排出量をおさえる方法

- ⑥ トラックで荷物を運ぶ場合は、1台に積む荷物の量を減らし、トラックの台数を増やす。
- ⑦ 長距離移動をする場合は、バスや鉄道による移動を減らし、航空中心にする。
- ⑧ 鉄道の運行本数を削減し、バスの運行本数を増やすようにする。
- ⑨ 自家用乗用車を使って便利な暮らしができるよう、モータリゼーションを推進する。
- ⑩ 駅などで自家用乗用車から鉄道やバスなどの公共交通機関に乗り換えるパーク&ライドを取り入れる。

(5) 下線部㊸について、冬樹さんは世界の地域機構を比較することにした。資料5は、ASEAN、EU、AU、USMCAの四つの地域機構について、2021年の加盟国数、加盟国の人口と国民総所得（GNI）の合計をグラフで表したものである。ア～エにあてはまる地域機構の組み合わせとして正しいものを、後の①～⑧から一つ選び、その数字を解答番号 22 にマークしなさい。

資料5



- | | | | |
|-----------|---------|---------|---------|
| ① ア-EU | イ-ASEAN | ウ-USMCA | エ-AU |
| ② ア-EU | イ-AU | ウ-ASEAN | エ-USMCA |
| ③ ア-USMCA | イ-AU | ウ-ASEAN | エ-EU |
| ④ ア-USMCA | イ-EU | ウ-AU | エ-ASEAN |
| ⑤ ア-ASEAN | イ-EU | ウ-USMCA | エ-AU |
| ⑥ ア-ASEAN | イ-USMCA | ウ-AU | エ-EU |
| ⑦ ア-AU | イ-ASEAN | ウ-EU | エ-USMCA |
| ⑧ ア-AU | イ-USMCA | ウ-EU | エ-ASEAN |

5 春男さんたちは、日本の政治や課題について、公民の授業の後に話し合った。次の会話文は、その時のものである。これを読んで、後の各問いに答えなさい。

春男：2025年7月20日に参議院議員の選挙が行われたね。結果、衆議院、参議院ともに与党が過半数割れになったんだ。 ㉑

夏美：内閣の政権運営が不安定になるね。

秋奈：選挙といえば、わたしたちもあと3年ほどで選挙権が与えられるね。

冬樹：18歳まで選挙権が引き下げられた理由って何なんだろうね。 ㉒

夏美：調べてみようか。政治がわたしたちの生活の身近な問題に関わっていることがわかんと思う。

秋奈：政治に求めることって、何かある？

春男：お母さんが、物価が高いって言っているのをよく聞くよ。2025年の参議院議員選挙でも物価対策は、各政党の政権公約にかかげられていたね。

冬樹：アメリカ合衆国のトランプ大統領が、高い関税をかけると言っていたね。関税ってどんなしくみになっていて、国や人々の生活にどう影響するのか。 ㉓

夏美：関税って、消費税と同じ国税で間接税だよ。消費税の導入は、年々増える社会保障費をまかなうことが理由の一つだって聞いたことがある。

秋奈：物価や消費税の問題はわたしたちの買い物に影響するし、社会保障は生活のリスクからわたしたちを守ってくれるしくみだから、よく考えないといけないね。 ㉔

(1) 下線部㉑について、次のメモは、4人が国会と内閣についてまとめたものである。右の資料1は、2025年の参議院議員選挙での結果を報じた新聞である。メモ中のXにあてはまる内容を後の①～③から一つ選び、その数字を解答番号 23 にマークしなさい。また、Yにあてはまる語句を④～⑦から一つ選び、その数字を解答番号 24 にマークしなさい。

メモ

一般的に、衆議院で最も多くの議席を確保した政党の党首が内閣総理大臣となり、与党を率いて政権運営を行う。しかし、2024年の衆議院議員総選挙の結果のように与党が過半数を割り込むと、衆議院において与党だけで法律案や予算案を可決させることが難しくなる。このような場合、(X) ことも政権運営を安定させるための一つの方法である。

さらに、2025年の参議院議員選挙の結果のように、衆議院だけでなく参議院でも少数与党になると、法律案が衆議院を通過したとしても、参議院で否決される可能性が高くなる。このように衆議院で可決された法律案が参議院で否決された場合には、「衆議院の優越」が適用され、衆議院で出席議員の (Y) 以上の多数で再可決すれば成立する。

資料1



(2025年7月21日朝日新聞)

承認番号(26-0393)

※朝日新聞社に無断で転載することを禁じる。

- X ① 他党と連携して連立政権を組む
 ② 両院協議会を開いて意見を調整する
 ③ 臨時会を開いて、採決を行う

- Y ④ 過半数 ⑤ 2分の1 ⑥ 3分の1 ⑦ 3分の2

- (2) 下線部⑥について、春男さんたち4人は、資料2の新聞を見つけた。次のI～Ⅲは、この新聞記事が報じている18歳以上に選挙権年齢を引き下げるという内容について、その目的を述べたものである。I～Ⅲのうち、正しいものはどれか。正しいものをすべて選んでいるものを、後の①～⑦から一つ選び、その数字を解答番号 25 にマークしなさい。

- I 少子高齢化によって、有権者の数に占める高齢者の割合が増えるため、若い世代の有権者数を増やして高齢者の投票率を下げるため。
- II 選挙権年齢を引き下げることによって、若い世代が社会の担い手であるという意識をもち、主体的に政治に関わる機会を増やすため。
- III 選挙権年齢が引き下げられると同時に被選挙権も引き下げられ、少子高齢化が進む中でも若い世代が政治を動かす原動力となることを期待したため。

- ① I、II、III ② I、II ③ I、III
 ④ II、III ⑤ I ⑥ II ⑦ III

資料2

「18歳成人」を巡る主な経緯

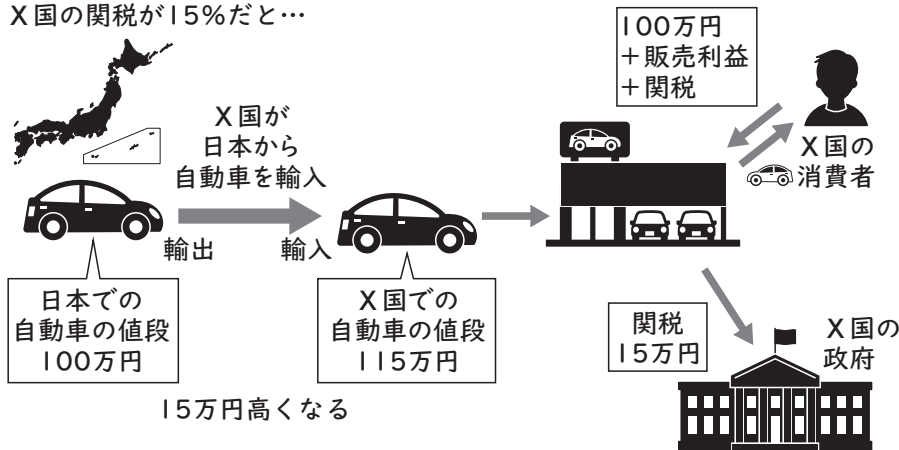
2005年4月	衆院憲法調査会が最終報告書を決定	①
07年5月	投票権年齢を18歳以上とした国民投票法が成立	
08年2月	成人年齢引き下げの是非を法制審議会に諮問	②
09年10月	法制審が成人年齢の18歳への引き下げを答申①	
15年6月	選挙権年齢を18歳以上に引き下げる改正公職選挙法が成立	
16年6月	改正公選法施行	
18年3月	政府が成人年齢を18歳とする民法改正案を閣議決定	
6月	改正民法が成立②	
19年6月	デパート商法による契約を取り消せるとした改正消費者契約法施行	
22年4月	改正民法施行	

(2022年3月31日「毎日新聞」)

- (3) 下線部③について調べた春男さんたち4人は、関税のしくみについて資料3を見つけた。この資料3から読み取れる、後の説明文のA～Cにあてはまる語句を、それぞれの選択肢から一つずつ選び、その数字を、Aは解答番号 26 に、Bは解答番号 27 に、Cは解答番号 28 にマークしなさい。

資料3 関税のしくみ

X国の関税が15%だと…



資料3の説明文

X国が (A) 品に対して課す税金。この税金は、(B) の確保と (C) を目的としている。

- A ① 輸入 ② 輸出
 B ① 消費者の利益 ② 財政収入
 C ① 貿易の促進 ② 国内産業の保護・育成

- (4) 下線部④について、次のア～キは、日本の社会保障の四つの柱である社会保険、社会福祉、公的扶助、公衆衛生のいずれかにあてはまる施策やその内容である。ア～キのうち、社会保険にあてはまるものはどれか。あてはまるものをすべて選んでいるものを、後の①～⑥から一つ選び、その数字を解答番号 29 にマークしなさい。

- ア 病気やけがをした場合に、それまでに積み立てておいたお金で、医療サービスを安く受ける。
イ 最低限の生活ができない人々に対して、生活保護法によって生活費を給付する。
ウ 感染症にかからないようにするため、予防接種を行う。
エ 国や地方公共団体が、すべての児童が心身ともに健やかに成長するために生活を支援する。
オ 40歳以上の人が入会して掛け金を支払い、老後に介護が必要になった場合に必要なサービスを受ける。
カ 生活環境を良好なものにするために公害防止などの対策を行う。
キ 障がいのある人が自ら望む生活を営めるように支援する。

- ① ア ② ア、オ ③ ア、イ、オ
④ イ ⑤ イ、エ、キ ⑥ イ、ウ、カ

