

令和4年度  
奈良県立大学附属高等学校  
入学者一般選抜検査問題

# 社 会

## 注意事項

- 1 指示があるまで、この冊子を開いてはいけません。
- 2 答えは全て解答用紙のマーク欄にマークしてください。マークは解答用紙の例に従って正しく記入してください。
- 3 印刷ミスなどがあれば、静かに手を挙げて監督の先生に知らせてください。問題内容についての質問には答えられません。
- 4 不正行為は絶対にしないようにしてください。



1 次の表1は、「政治に関する動き」と「奈良で起こったおもなできごと」を時代ごとにまとめたものである。後の各問いに答えよ。

表1

| 区分   | 時代   | 政治に関する動き       | 奈良で起こったおもなできごと                  |
|------|------|----------------|---------------------------------|
| 古代   | 弥生   | 卑弥呼が魏に使いを送る。   | 唐古・鍵遺跡などの大規模集落がつくられる。           |
|      | 古墳   | 大和政権が成立する。     | 仏教が伝来する。                        |
|      | 飛鳥   | ①大宝律令が完成する。    | 法隆寺がつくられる。                      |
|      | 奈良   | 平城京に都を移す。      | 鑑真が来日し、戒律を伝える。<br>東大寺の大仏が建立される。 |
|      | 平安   | ②平安京に都を移す。     | 平氏が奈良を焼き打ちする。                   |
| 中世   | 鎌倉   | 源頼朝が征夷大將軍となる。  | 東大寺南大門金剛力士像がつくられる。              |
|      | 室町   | 南北朝が統一される。     | 後醍醐天皇が吉野に南朝を開く。                 |
| 近世   | 安土桃山 | ③豊臣秀吉が全国を統一する。 | 豊臣秀長が郡山城主となる。                   |
|      | 江戸   | 徳川家康が江戸幕府を開く。  | 春日大社の鹿の角伐りが始まる。                 |
| 近・現代 | 明治   | 廃藩置県が行われる。     | 奈良県が設置される。                      |
|      | 大正   | 第一次世界大戦が起こる。   | ④西光万吉が部落解放運動を指導する。              |
|      | 昭和   | 文化財保護法が制定される。  | ⑤正倉院展が始まる。                      |

(1) 表1の下線部①について、春男さんは律令制度のもとでの古代の税制と農民の負担について興味を持ち、調べた結果を、「奈良時代の農民の負担はどのようなものだったのだろうか?」というテーマで、次のパネルにまとめた。

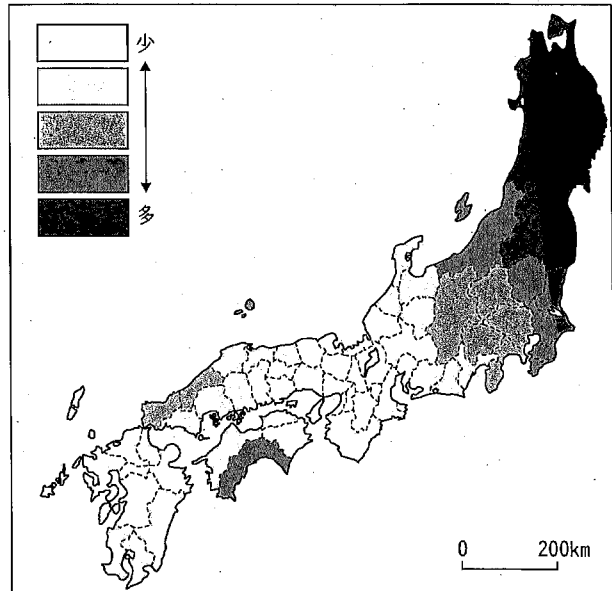
パネル

| 奈良時代の農民の負担はどのようなものだったのだろうか? |                                |                   |                   |                                    |
|-----------------------------|--------------------------------|-------------------|-------------------|------------------------------------|
| 区分                          | 負担者                            |                   |                   | その他                                |
|                             | 正丁<br>(21~60歳の男子)              | 老丁<br>(61~65歳の男子) | 少丁<br>(17~20歳の男子) |                                    |
| 租                           | 稲の収穫量の約3%を納める。                 |                   |                   | 6歳以上の男女が負担。<br>地方の財源。              |
| 調                           | 絹、糸、布や特産物を納める。                 | 正丁の2分の1           | 正丁の4分の1           | 自分たちで都(九州は大宰府)へ運ぶ。中央の財源。           |
| 庸                           | 都での労役10日の代わりに麻布を約8m納める。        | 正丁の2分の1           | なし                |                                    |
| 雑徭                          | 地方での労役、1年に60日以内。               | 正丁の2分の1           | 正丁の4分の1           |                                    |
| 兵役                          | 衛士…都の警備1年間<br>防人…九州(北九州)の警備3年間 | なし                | なし                | 正丁3, 4人に1人。<br>武器や食料は自己負担し、訓練を受ける。 |

春男さんは、パネルを作成するなかで、地域によって農民の負担に差があることに気づき、その地域差を資料1の地図にまとめた。春男さんが気づいた、地域によって差がある農民の負担とは何か。最も適切なものを、次のア～オから1つ選び、その記号をマークせよ。

- ア 兵役を課せられる年数
- イ 納める特産物の運搬にかかる日数
- ウ 労役を課せられる日数
- エ 納める稲の量
- オ 1世帯が納める麻布の量

資料1



(2) 表1の下線部②について、次のア～エは平安時代のできごとである。これらを年代の古い順に並べ替えたとき、2番目と4番目にあたるものを、次のア～エから1つずつ選び、その記号をマークせよ。

- ア 藤原氏は自分の娘を天皇のきさきとし、生まれた子を天皇の位に就けて勢力を伸ばした。藤原良房は臣下として初の摂政に、そのあとを継いだ基経は初の関白となり、摂関政治の基礎を築いた。
- イ 朝廷に従わない東北地方の蝦夷を征服するため、朝廷は、坂上田村麻呂を征夷大將軍に任じて兵を送った。田村麻呂の活躍により、朝廷の勢力範囲は広がった。
- ウ 白河天皇は天皇の位をゆずったあとも、上皇として摂政や関白をおさえて政治を行った。政治の実権を握った白河上皇のもとには、多くの荘園が集まった。
- エ 平清盛は、武士として初めて朝廷の最高の役職に就いた。また、清盛は中国との交易による利益に目をつけ、その航路や兵庫の港（大輪田泊）を整備した。

(3) 表1の下線部③について、このできごとと同じ世紀に起こった外国のできごとを、次のア～エから1つ選び、その記号をマークせよ。

- ア ルターは、ローマ教皇が大聖堂の建築資金を集めるために売り出した免罪符を批判し、宗教改革を始めた。
- イ モンゴル高原の遊牧民を統一したチンギス・ハンは、モンゴル帝国を建国して初代皇帝となった。
- ウ 聖地エルサレムがイスラム教徒に占領されると、ローマ教皇は西ヨーロッパの国々にエルサレム奪回を呼びかけ、第1回十字軍が結成された。
- エ イギリスとの独立戦争に勝利したアメリカ合衆国は、合衆国憲法を定め、独立戦争で最高司令官を務めたジョージ・ワシントンに初代大統領に選んだ。

(4) 表1の下線部④について、資料2の西光万吉は奈良県出身で、差別からの解放を目指す運動を指導した人物の一人である。この人物が行った部落解放運動に関連した資料として最も適切なものを、次のア～エから1つ選び、その記号をマークせよ。

資料2




西光万吉 (1895~1970)

ア




イ



ウ

|  |                                      |                            |
|--|--------------------------------------|----------------------------|
| <p>主催者<br/>主 日本労働者同盟（労働組合）<br/>主 日本労働者同盟（労働組合）<br/>主 日本労働者同盟（労働組合）</p> | <p>演 題<br/>労働者の大衆運動<br/>労働者の大衆運動</p> | <p>労働日<br/>労働日<br/>労働日</p> |
|--|--------------------------------------|----------------------------|

エ



(5) 表1の下線部⑤について、次の先生と春男さんの会話を読んで、後の各問いに答えよ。

先生：毎年秋に奈良国立博物館で開かれる正倉院展では、約60点の宝物が公開されます。

春男：はい。私も行ったことがあります。

先生：そうですね。春男さんは、正倉院について学習した内容を覚えていますか。

春男：はい。正倉院は校倉造で建てられた東大寺の倉です。聖武天皇の愛用品などが納められていると学習しました。

先生：そうですね。右の資料3は、正倉院の宝物と、同じ時期につくられたとされる外国で出土した遺物の写真です。何か気づいたことはありますか。

春男：はい。どちらもよく似ていると思います。


先生：そうですね。正倉院には、西アジアが起源の宝物も所蔵されていました。右の資料4は、8世紀ごろのユーラシア大陸の地図です。資料3と資料4から、どのようなことが読み取れますか。

春男：はい。□が読み取れると思います。

先生：そうですね。資料を正しく読み取られていますね。

資料3

正倉院宝物



碗



水差し

外国で出土した遺物(西アジアで出土)

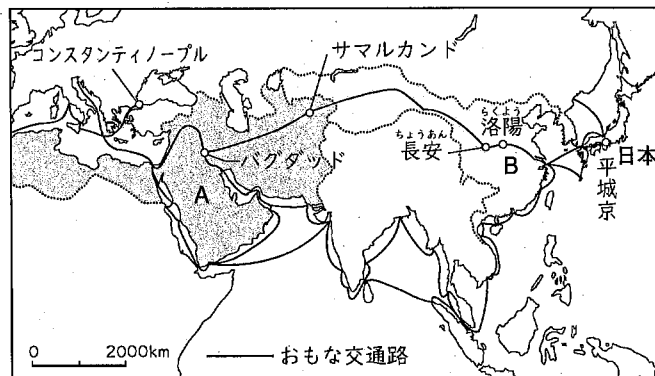


碗



水差し

資料4



① 資料4中のAとBにあてはまる当時の国名の組み合わせとして正しいものを、次のア～エから1つ選び、その記号をマークせよ。

- ア A…イスラム帝国 B…元      イ A…ビザンツ帝国 B…唐  
ウ A…イスラム帝国 B…唐      エ A…ビザンツ帝国 B…元

② 資料3と資料4から読み取ることができる、会話文中の□にあてはまる内容を、次のア～エから1つ選び、その記号をマークせよ。

- ア 当時、アジアとヨーロッパを結ぶ交通路は、陸上のみに限られていたこと  
イ 正倉院宝物は、西アジアやヨーロッパから大西洋を渡って運ばれたこと  
ウ 当時、ヨーロッパから西アジアを通して日本までつながる交通路があったこと  
エ 当時の中国の王朝は、朝鮮半島から西ヨーロッパまでを支配していたこと

- 2 2021年7月に開催された東京オリンピックをテレビ観戦した春男さんと夏美さんは、探究学習で「インバウンド」について発表しようと考え、資料を集めている。二人の会話を読んで、後の各問いに答えよ。

夏美：①新型コロナウイルス感染症拡大の影響で、東京オリンピックが無観客開催になりました。新型コロナウイルスの影響がなければ、多くの外国人観光客が日本を訪れたと思います。

春男：そうですね。外国人が日本を訪れる旅行や旅行者のことをインバウンド、逆に日本人が外国に出かける旅行や旅行者のことをアウトバウンドと言いますが、新型コロナウイルス感染症拡大前の日本は、多くの外国人観光客が来日する②インバウンドブームでした。

夏美：そうでしたね。当時、日本でインバウンドブームが起こった理由は、何だったのでしょうか。

春男：はい。政府の方針がありました。政府は、観光を日本の成長戦略の大きな柱の一つと位置づけ、海外から観光客が来日することを促進するために、\*ビザの要件の緩和、\*免税店数の増加などを進めました。また、③為替相場の変動、④近隣諸国の観光旅行の緩和や解禁、海外でのMANGAブームなどの日本文化の流行が、インバウンド数の増加に拍車をかけたと言われています。

夏美：よくわかりました。ところで、観光以外の目的で来日する人も、増加していたのでしょうか。

春男：はい。新型コロナウイルス感染症拡大の前は、仕事や留学を目的として来日する人も多かったようです。

夏美：私も将来、語学留学したいと考えています。

春男：そうなのですね。グローバル化が進む世界で、日本人が海外で活躍することも大切ですが、留学生の受け入れ数を増やすことも大切だと思います。なぜなら、日本で⑤日本語を学んだ留学生は、帰国してから、日本とその国をつなぐパイプ役を果たすことが期待されるからです。日本で学ぶ外国人留学生の人数は、2011年には約16万人でしたが、2019年には30万人を超えました。

夏美：約2倍になったのですね。国内で様々な国の人と交流ができることは、異文化理解の点でもとても大切なことです。

\*ビザ：入国する正当な理由と資格があることを証明するもの。

免税店：おもに外国人旅行者のために、課税が免除された商品を売る店。

- (1) 下線部①について、国際連合の専門機関であるWHO（世界保健機関）が新型コロナウイルス感染症拡大防止のための取り組みを行っている。日本と国際連合について説明した文として適切なものを、次のア～エから1つ選び、その記号をマークせよ。

ア 国際連合が行っている紛争地域での停戦や選挙の監視などの平和維持活動に、日本も参加している。

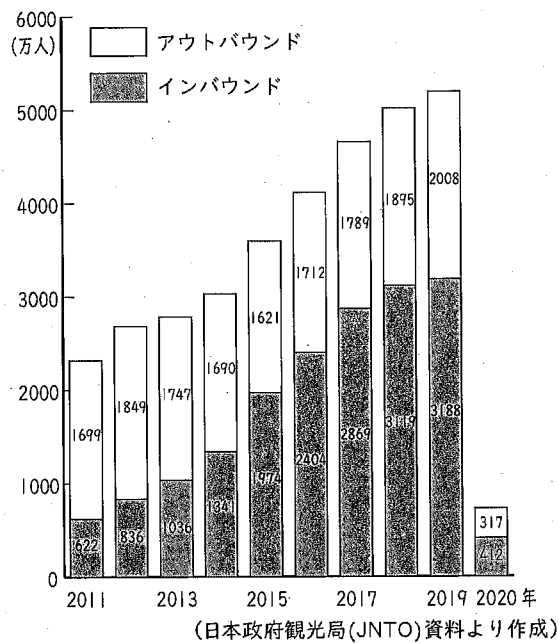
イ 安全保障理事会は、常任理事国5か国と非常任理事国10か国で構成され、日本は常任理事国の1つである。

ウ 日本とソ連は、1956年に日ソ中立条約を締結して国交を回復し、同じ年に日本は国際連合に加盟した。

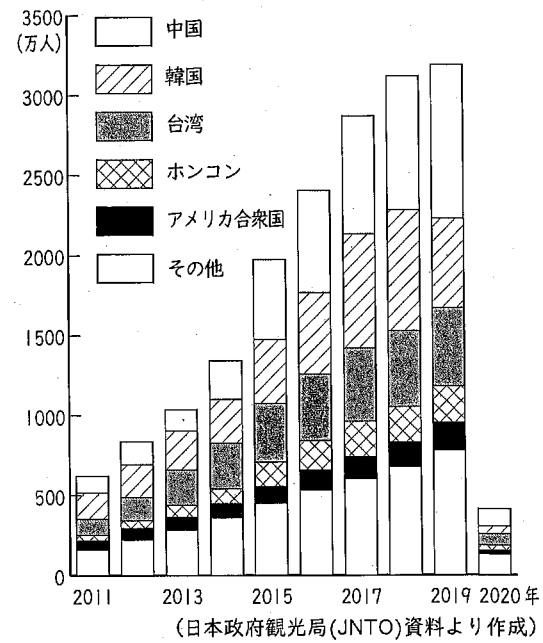
エ 国際連合の収入である分担金の2020年の負担額は、加盟国のなかで日本が最も高い。

(2) 下線部②について、次の資料1～資料4から読み取ることができる内容として適切なものを、後のア～エから1つ選び、その記号をマークせよ。

資料1 アウトバウンド数とインバウンド数の推移



資料2 インバウンド数の国・地域別の推移



資料3 インバウンドの目的別人数 (万人)

|     | 2011年 | 2012年 | 2013年 | 2014年 | 2015年 | 2016年 | 2017年 | 2018年 | 2019年 | 2020年 |
|-----|-------|-------|-------|-------|-------|-------|-------|-------|-------|-------|
| 総数  | 622   | 836   | 1036  | 1341  | 1974  | 2404  | 2869  | 3119  | 3188  | 412   |
| 観光  | 406   | 604   | 796   | 1088  | 1697  | 2105  | 2544  | 2777  | 2826  | 331   |
| 商用  | 124   | 144   | 146   | 154   | 164   | 170   | 178   | 180   | 176   | 22    |
| その他 | 92    | 87    | 94    | 100   | 113   | 129   | 147   | 163   | 187   | 59    |

(日本政府観光局(JNTO)資料より作成)

資料4 ドル・ユーロと円の為替相場 (年平均)

|      | 2011年 | 2012年 | 2013年 | 2014年 | 2015年 | 2016年 | 2017年 | 2018年 | 2019年 | 2020年 |
|------|-------|-------|-------|-------|-------|-------|-------|-------|-------|-------|
| 1ドル  | 80円   | 80円   | 98円   | 106円  | 121円  | 109円  | 112円  | 110円  | 109円  | 107円  |
| 1ユーロ | 111円  | 103円  | 130円  | 140円  | 134円  | 120円  | 127円  | 130円  | 122円  | 122円  |

(三菱UFJ銀行資料より作成)

ア 2012年以降の日本では、前年よりも円の対ドル相場の平均が円安だった年は、インバウンド数が減少し、アウトバウンド数が増加する傾向がみられる。

イ 2011年からの10年間で、インバウンド数のうち、アジアの国・地域からの訪問者が全体に占める割合は、常に50%以上である。

ウ 新型コロナウイルス感染症拡大の影響で、2020年に観光、商用、その他の目的で日本を訪れた人数は、いずれも、前年の1割以下である。

エ 日本のインバウンド数がアウトバウンド数を上回った年以降、インバウンド数の90%以上が観光目的で来日した人である。



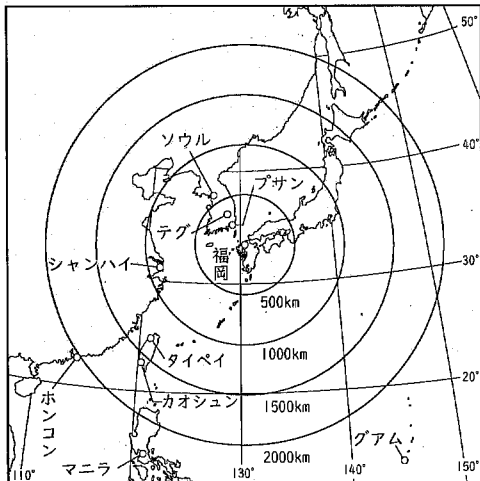
- (3) 下線部③について、資料4を見て、次の文中の「あ」、「い」にあてはまる言葉の組み合わせとして正しいものを、後のア～エから1つ選び、その記号をマークせよ。

2016年の円とドルの為替相場の平均は、前年と比べて「あ」だった。このように相場が変化するとき、日本からアメリカ合衆国への輸出が中心の企業にとっては「い」になる。

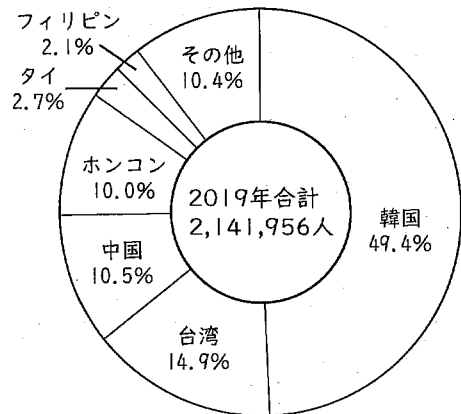
- ア あ：円高ドル安    い：不利    イ あ：円安ドル高    い：有利  
 ウ あ：円高ドル安    い：有利    エ あ：円安ドル高    い：不利

- (4) 下線部④について、福岡空港を利用して来日する外国人の多くは、アジアからの外国人である。資料5は、地図の中心にある福岡からの方位と距離が正しい地図に、福岡空港との間に1週間に7便以上の国際線が就航している(2019年冬時点)おもな都市を示している。また、資料6は、福岡空港を利用して来日した外国人の国・地域別の割合を示したグラフである。資料5と資料6から読み取ることができる内容として適切なものを、後のア～エから1つ選び、その記号をマークせよ。

資料5 福岡空港との間に1週間に7便以上の国際線が就航しているおもな都市(2019年冬)



資料6 福岡空港を利用して来日した外国人の国・地域別の割合



(「出入国管理統計」より作成)

- ア 2019年に福岡の南東にある台湾から福岡空港を利用して日本を訪問した外国人は、30万人以上である。  
 イ 資料5に示されている韓国の都市のうち、福岡と最も距離が離れている都市までの距離と福岡・東京間の距離では、福岡・東京の方が長い。  
 ウ 福岡を中心とした半径2000kmの円のなかに、日本の領土はすべておさまる。  
 エ 資料6のグラフ中に示された国・地域は、資料5の地図中に少なくともその一部が描かれている。

- (5) 下線部⑤について、資料7は、世界のおもな言語を、使用している人口の多い順に並べたものである。  
このうち、日本語にあてはまるものを、資料7のア～エから1つ選び、その記号をマークせよ。

資料7

| 順位 | 言語    | 人口(百万人) |
|----|-------|---------|
| 1  | 中国語   | 1311    |
| 2  | スペイン語 | 460     |
| 3  | ア     | 379     |
| 4  | イ     | 341     |
| 5  | アラビア語 | 319     |
| 6  | ベンガル語 | 228     |
| 7  | ウ     | 221     |
| 8  | ロシア語  | 154     |
| 9  | エ     | 128     |
| 10 | ランダ語  | 119     |

\*第一言語(幼少期から身につけた、最も得意な言語)による区分  
(「データブック オブ・ザ・ワールド 2021年版」より作成)

3 春男さんと夏美さんは、地理の授業で学習した南・北アメリカ州について確認している。二人の会話を読んで、後の各問いに答えよ。

春男：夏美さんは、授業で学習した内容について、もう一度確認したいことや深く調べてみたい内容はありましたか。

夏美：はい。南・北アメリカ大陸の気候と人々の暮らし、北アメリカ大陸の地形・自然、アメリカ合衆国の人種の問題、南・北アメリカ大陸に属する国々の産業の4つについて、調べたいと考えています。まず、気候と人々の暮らしを調べるため、地図中の4つの都市の雨温図を比較したいと考えています。

春男：①雨温図からは、その都市の気候の特徴を読み取ることができます。比較してみましょう。

夏美：はい。また、気候は暮らしに影響をあたえます。伝統的な住居は、その地域で手に入りやすい材料を使用して、②その地域の気候に合わせて造られたものが多いようです。

春男：そうですね。とても興味があります。では、次の北アメリカ大陸の地形・自然については、どのような内容を調べたいと考えていますか。

夏美：はい。地図帳を見ると、北アメリカ大陸には、険しい山脈が連なっている地域や砂漠が広がっている地域があることがわかりました。それらの地形がどのように広がっているのか、調べたいと思います。

春男：アメリカ合衆国は国土面積が広く、日本では見られない地形も見られそうですね。また、東西にも長いので、③西から東にかけて、地形を断面図で確かめてみてはどうでしょう。

夏美：それはいい考えですね。

春男：次の人種問題については、どうですか。

夏美：はい。アメリカ合衆国はヨーロッパからの移民によってつくられた国で、開拓を進めるなかで、元々住んでいた先住の人々（ネイティブアメリカン）の土地が奪われていったことを学習しました。その後、奴隷としてアフリカの人々が連れてこられ、近年はヒスパニックと呼ばれるスペイン語を話す人々やアジアからの移民も増加しているそうです。アメリカ合衆国には多くの人種や民族が暮らしています。④どの地域にどのような人々が多く住んでいるのか、その分布について調べたいと考えています。

春男：わかりました。では最後に、南・北アメリカ大陸の国々の産業について調べたいことを教えてください。

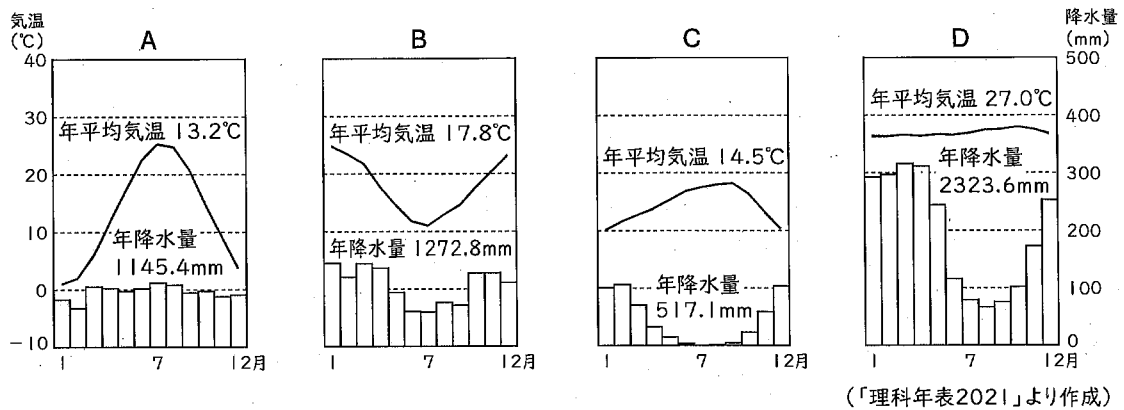
夏美：はい。南・北アメリカ大陸には、国土面積の広い国があります。これらの面積の広い国について、産業の特徴を調べたいと思っています。特に、⑤広い国土を利用した農業と他の国との関係について調べるために、貿易に注目しようと考えています。

春男：わかりました。どの項目も興味があります。資料集めは私にも手伝わせてください。

地図




(1) 下線部①について、次のA~Dのグラフは、地図中の4つの都市の気温と降水量を示した雨温図である。このうち、サンフランシスコとブエノスアイレスの雨温図の組み合わせとして正しいものを、後のア~カから1つ選び、その記号をマークせよ。



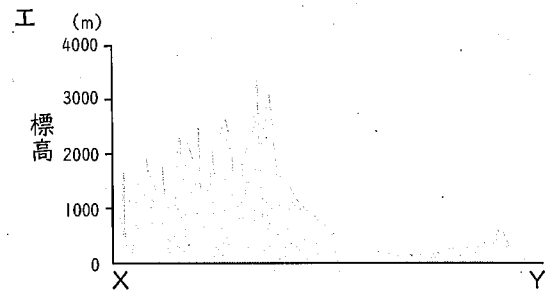



- |   |                        |   |                        |
|---|------------------------|---|------------------------|
| ア | サンフランシスコ…A, ブエノスアイレス…B | イ | サンフランシスコ…A, ブエノスアイレス…C |
| ウ | サンフランシスコ…B, ブエノスアイレス…C | エ | サンフランシスコ…C, ブエノスアイレス…B |
| オ | サンフランシスコ…C, ブエノスアイレス…D | カ | サンフランシスコ…D, ブエノスアイレス…A |

(2) 下線部②について、次のa~dの住居は、寒帯、冷帯、乾燥帯、熱帯のいずれかの地域で見られる住居である。地図中のPとQの地域で見られる住居の組み合わせとして最も適切なものを、後のア~カから1つ選び、その記号をマークせよ。

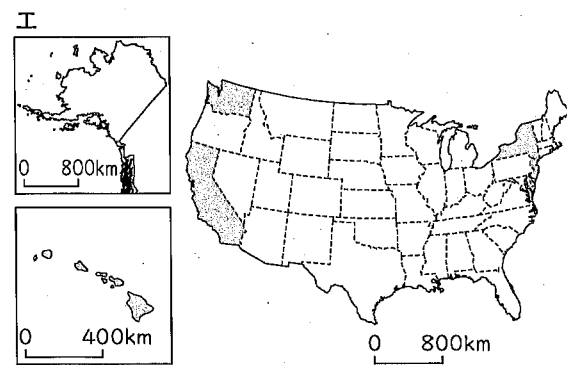
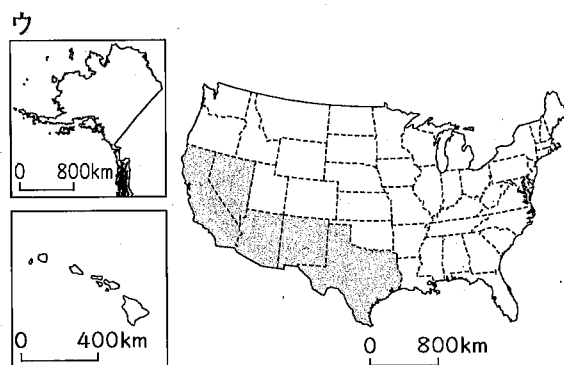
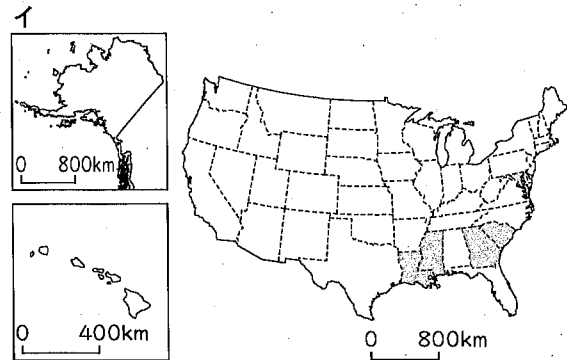
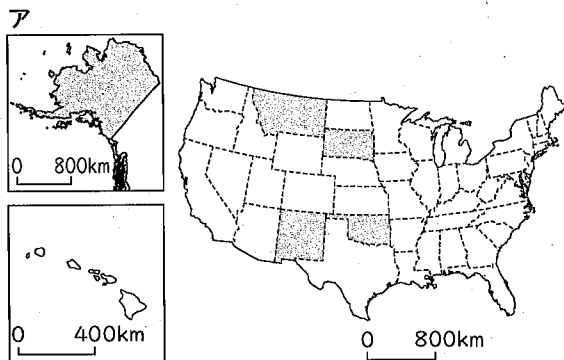


- |   |          |   |          |   |          |
|---|----------|---|----------|---|----------|
| ア | P…a, Q…b | イ | P…a, Q…c | ウ | P…b, Q…d |
| エ | P…c, Q…d | オ | P…d, Q…a | カ | P…d, Q…b |

(3) 下線部③について、地図中のX——Yの断面図として最も適切なものを、次のア～エから1つ選び、その記号をマークせよ。なお、グラフの縦軸は標高を表している。



(4) 下線部④について、次のア～エの地図は、アメリカ合衆国のなかでアフリカ系、先住の人々(ネイティブアメリカン)、アジア系、ヒスパニックの人口に占める割合が高い上位5つの州のいずれかを示している。このうち、ヒスパニックの占める割合が高い州を示した地図を、次のア～エから1つ選び、その記号をマークせよ。



(「データブック オブ・ザ・ワールド 2021年版」より作成)

(5) 下線部⑤について、次の表のA～Eは、世界の中で国土面積が広い上位5か国のいずれかである。表はこの5か国について総人口に占める農林水産業従事者の割合、農林水産業従事者数、国土に占める農地の割合、主な輸出品（上位3品目）をまとめたものである。A～Eのうち、南・北アメリカ大陸に属する国はどれか。その組み合わせとして正しいものを、後のア～オから1つ選び、その記号をマークせよ。

表

| 国 | 総人口に占める農林水産業従事者の割合 | 農林水産業従事者数(万人) | 国土に占める農地の割合 | 主な輸出品(上位3品目)   |
|---|--------------------|---------------|-------------|----------------|
| A | 4.1%               | 859.0         | 27.8%       | 大豆, 原油, 鉄鉱石    |
| B | 0.7%               | 219.1         | 41.3%       | 機械類, 自動車, 石油製品 |
| C | 2.8%               | 408.5         | 12.6%       | 原油, 石油製品, 鉄鋼   |
| D | 0.8%               | 29.4          | 5.9%        | 原油, 自動車, 機械類   |
| E | 13.6%              | 19434.7       | 55.2%       | 機械類, 衣類, 繊維品   |

(「世界国勢図会2021/22年版」などより作成)

- ア A, B, D
- イ A, C, D
- ウ B, D
- エ B, C, D
- オ C, E

- 4 春男さんは、地理の授業で学習した内容について、関心をもったことがらをさらに深く調べるため、次のようなメモを作成した。このメモを見て、後の各問いに答えよ。

メモ

| 調査項目  | 関心をもったことがら                            | 調べる内容                              |
|-------|---------------------------------------|------------------------------------|
| 自然    | 日本の国土は弓形で細長く、国土の大部分を山地や山脈が占めている。      | 地域によって気候が異なることについて調べる。…①           |
| 人口    | 高度経済成長期のころから、地方から都市部への人口移動が加速した。      | 都市部と近郊では、昼間人口と夜間人口が異なることについて調べる。…② |
| 農業    | 農業は、地域の気候や地形など、環境に合わせて行われている。         | 地域の特徴を生かして農産物を生産していることについて調べる。…③   |
| 交通    | 1960年代以降、日本各地が高速交通網で結ばれた。             | 東京から各地への移動にかかる時間が短くなったことについて調べる。…④ |
| 地域の変化 | 1990年代以降、大規模な都市開発が行われ、都市部の様子は大きく変化した。 | 都市開発などによる地形の変化を、地形図で調べる。…⑤         |

- (1) メモの①について、日本の気候について述べた文として正しいものを、次のア～エから1つ選び、その記号をマークせよ。

ア 本州や四国、九州は温帯に属し、針葉樹林が見られるが、北海道は冷帯に属するため、針葉樹林はほとんど見られない。

イ 関東地方の内陸部は、夏にからっ風と呼ばれる乾燥した北風が吹くため、気温が上がって暑くなり、乾燥する。

ウ 夏に、東北地方の日本海側では、やませと呼ばれる冷たく湿った風が吹いて、農作物が冷害に見舞われることがある。

エ 日本列島では、夏から秋の時期に発生することが多い台風によって、高潮や洪水、土砂くずれが起こることがある。

- (2) メモの②について、資料1は、近畿地方の4府県の昼間人口と夜間人口をそれぞれ示したものである。資料1中の **X** にあてはまる表の数値の組み合わせとして正しいものを、次のア～エから1つ選び、その記号をマークせよ。

資料1 (2015年)

|       |       |
|-------|-------|
| ア     |       |
| 1,228 | 1,364 |
| 8,839 | 9,224 |

|       |       |
|-------|-------|
| イ     |       |
| 1,228 | 1,364 |
| 9,224 | 8,839 |

|       |       |
|-------|-------|
| ウ     |       |
| 1,364 | 1,228 |
| 8,839 | 9,224 |

|       |       |
|-------|-------|
| エ     |       |
| 1,364 | 1,228 |
| 9,224 | 8,839 |

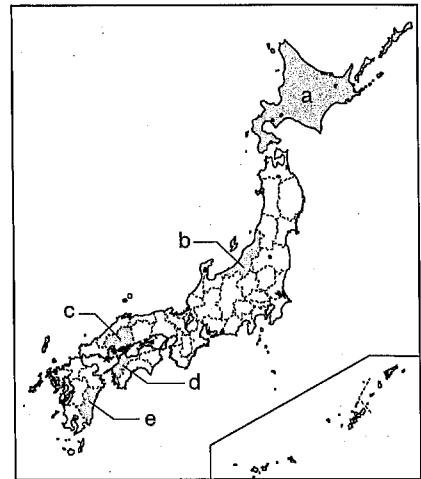
|     | 昼間人口<br>(千人) | 夜間人口<br>(千人) |
|-----|--------------|--------------|
| 京都府 | 2,656        | 2,610        |
| 兵庫県 | 5,294        | 5,535        |
| 奈良県 | X            |              |
| 大阪府 |              |              |

(「日本国勢図会2021/22年版」より作成)

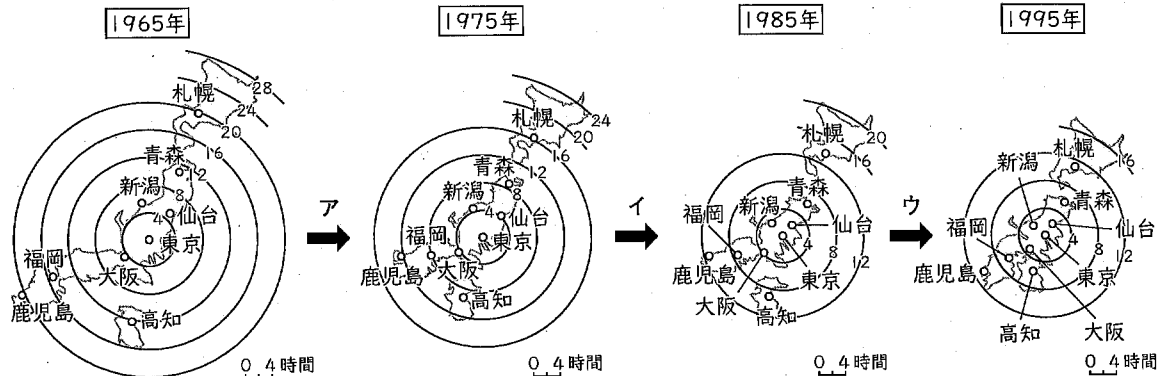
- (3) メモの③について、資料2の a～e の道県の農業の特徴について述べた文として正しいものを、次のア～エから1つ選び、その記号をマークせよ。

資料2

- ア aの東部に広がる台地では、広大な土地を利用して、肉牛の飼育を行う酪農がさかんである。
- イ 全国有数の稲作地帯であるb県では、年に2回同じ土地で稲を栽培する二期作がさかんである。
- ウ c県やd県では、温暖な気候を利用した、レモンやみかんなどのかんきつ類の生産がさかんである。
- エ e県では、ビニールハウスを使った抑制栽培がさかんで、なすやピーマンなどの野菜を、冬から春にかけて出荷している。



- (4) メモの④について、下の4つの図はそれぞれ、1965年、1975年、1985年、1995年の、東京から鉄道や連絡船を利用して各地へ移動したときの所要時間をもとに作成したものであり、➡ア～ウはそれぞれの間の時期を示している。次の①、②は、➡ア～ウのどの時期のできごとか。あてはまる時期を、➡ア～ウからそれぞれ1つずつ選び、その記号をマークせよ。

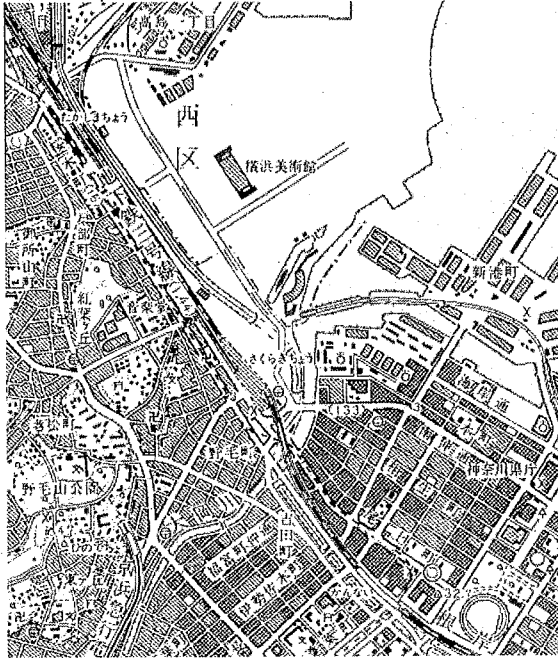


(日本経済新聞ホームページより作成)

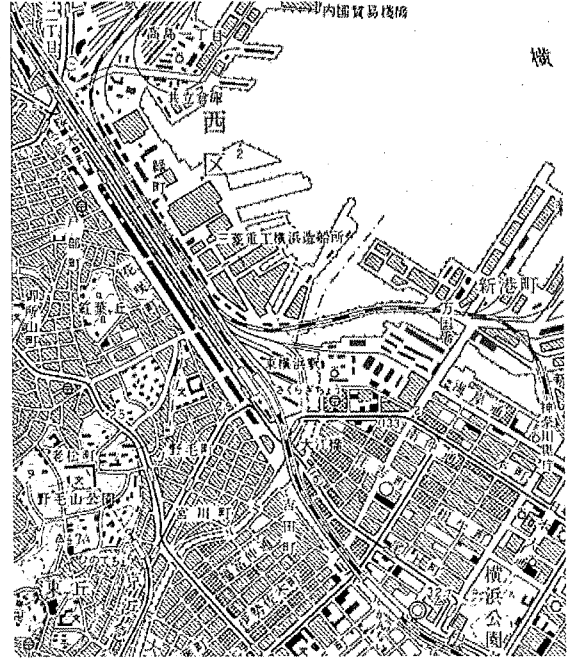


(5) メモの⑤について、資料3～資料5は、昭和45年、昭和57年、平成2年に国土地理院から発行された25000分の1地形図「横浜東部」のいずれかである。また、資料6は、令和元年に発行された地形図である。資料3～資料5の地形図を古い順に並べたものとして最も適切なものを、後のア～カから1つ選び、その記号をマークせよ。

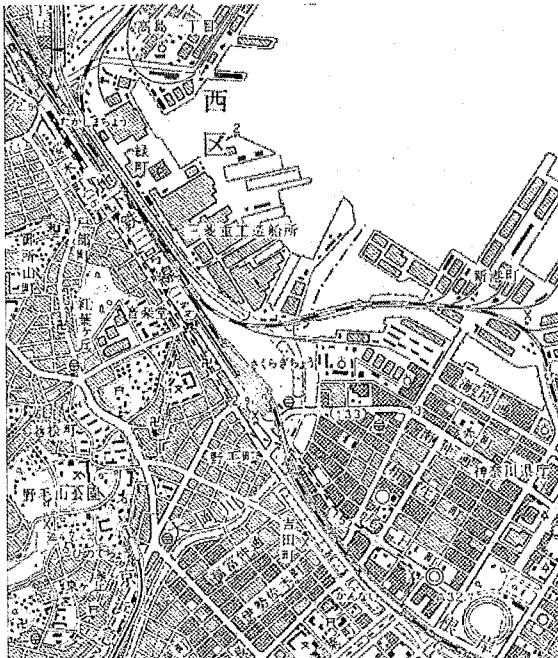
資料3



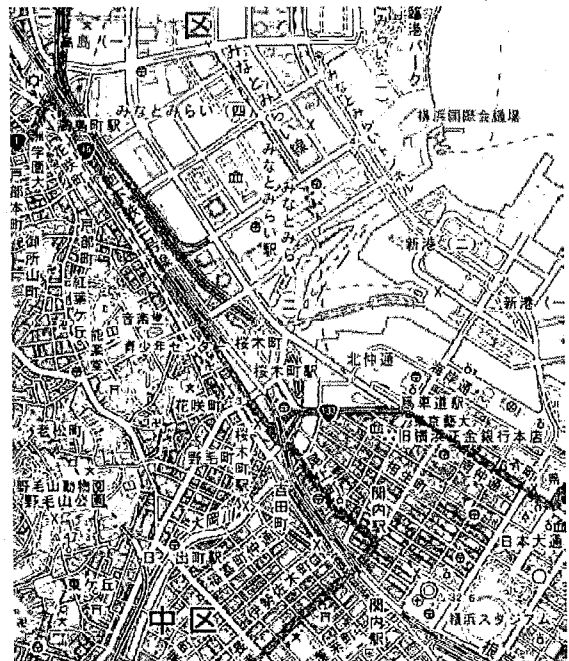
資料4



資料5



資料6



ア 資料3→資料4→資料5  
 ウ 資料4→資料3→資料5  
 オ 資料5→資料3→資料4

イ 資料3→資料5→資料4  
 エ 資料4→資料5→資料3  
 カ 資料5→資料4→資料3

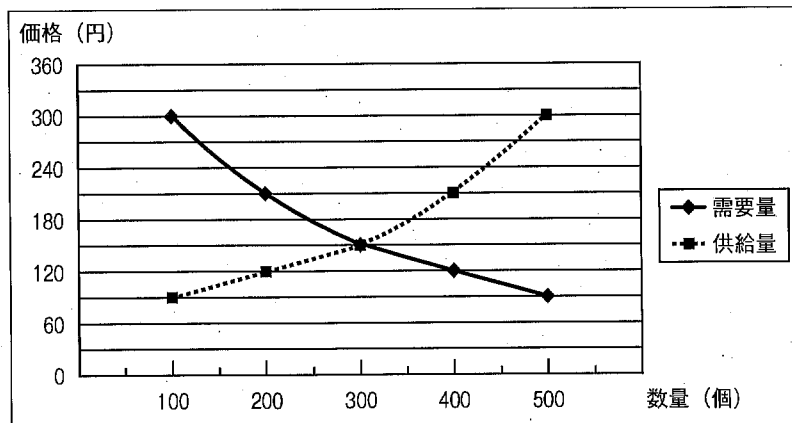
5 次の各問いに答えよ。

(1) 日本の選挙制度について述べた文として正しいものを、次のア～エから1つ選び、その記号をマークせよ。

- ア 若い世代の意見を政治に反映させるために、選挙権年齢を満16歳に引き下げ、若い世代が投票できるようにしている。
- イ 投票率を高めることや投票の権利を保障するために、投票日の前に投票することができる期日前投票の制度が整備されている。
- ウ 有権者数が多い選挙区と比べ、有権者数が少ない選挙区では一票の価値が低くなるという一票の格差の問題は、最高裁判所で選挙が違憲状態であるという判決が下されたことがある。
- エ インターネットやSNSは、事実と異なる不正確な情報が流れることがあるため、選挙運動では使用が禁止されている。

(2) 資料1は、ある商品の需要量・供給量と価格の関係について示したものである。このグラフから読み取れる内容として正しいものを、後のア～エから1つ選び、その記号をマークせよ。

資料1



- ア 価格が300円するとき、この商品は500個売れる。
- イ 価格が210円するとき、この商品の売り上げは総額84,000円となる。
- ウ 価格を90円にしたとき、この商品に対する買い手は最も少なくなる。
- エ この商品を300個作って価格を150円にしたとき、この商品は残らず売り切れる。

- (3) 資料2は、あるレストランが2021年にスタッフを募集するために作成したチラシである。このチラシの下線部①と②について、法律に違反している内容であることがわかったため、資料3のように修正した。下線部①と②は、どの法律に違反しているか。後のア～エからそれぞれ1つずつ選び、その記号をマークせよ。

資料2

**■アルバイト募集■**

飲食店のキッチン（調理）のお仕事です。

【時給】①男性1200円以上、女性1000円以上  
※22時以降、深夜手当あり

【年齢・資格】不問 ※経験者優遇

【時間】18時～24時  
(うち、1日4時間以上、週2日以上)  
※勤務日は、応相談

【募集人数】②男性1名・女性2名

【待遇】交通費支給、制服貸与

【勤務地】レストラン■■■■

※詳細は面談の上決定いたします。  
レストラン■■■■ 担当：○○○○  
◆◆市△△町1-1-1 ☎○○×-◎◇◇◇

資料3

**■アルバイト募集■**

飲食店のキッチン（調理）のお仕事です。

【時給】1200円～  
※22時以降、深夜手当あり

【年齢・資格】不問 ※経験者優遇

【時間】18時～24時  
(うち、1日4時間以上、週2日以上)  
※勤務日は、応相談

【募集人数】3名

【待遇】交通費支給、制服貸与

【勤務地】レストラン■■■■

※詳細は面談の上決定いたします。  
レストラン■■■■ 担当：○○○○  
◆◆市△△町1-1-1 ☎○○×-◎◇◇◇

ア 労働基準法    イ 男女雇用機会均等法    ウ 男女共同参画社会基本法    エ 労働関係調整法

- (4) 日本の裁判について述べた、次の①、②の文章中の下線部について、正しい場合は正、誤っている場合は誤の記号をマークせよ。

① 裁判には、民事裁判と刑事裁判がある。民事裁判は、検察官が被疑者を被告人として裁判所に提訴することで始まる。被告人には、答えたくない質問への答えを拒否したり黙っていたりする黙秘権や弁護人をたのお権利が保障されている。

② 2009年から地方裁判所で審理される重大な犯罪についての刑事裁判において、裁判員制度による裁判が行われている。裁判員は満20歳以上の国民の中からくじと面接で選ばれ、裁判員に選ばれると特別な場合を除いて辞退ができない。

- (5) 新しい人権について述べた、次の①、②の文章中の下線部について、正しい場合は正、誤っている場合は誤の記号をマークせよ。

① プライバシーの権利について  
個人情報が売買され、悪用されるケースが増加している。情報化社会において、個人の私生活を守る権利が主張され、その結果、情報公開制度が整備されるようになった。

② 自己決定権について  
自らの生命や生活に関して、本人が決定できる権利である。医療において、治療方法を自ら選択するバリアフリーの考え方やドナーカードへの臓器提供の意思の記入が、その代表的な例である。

